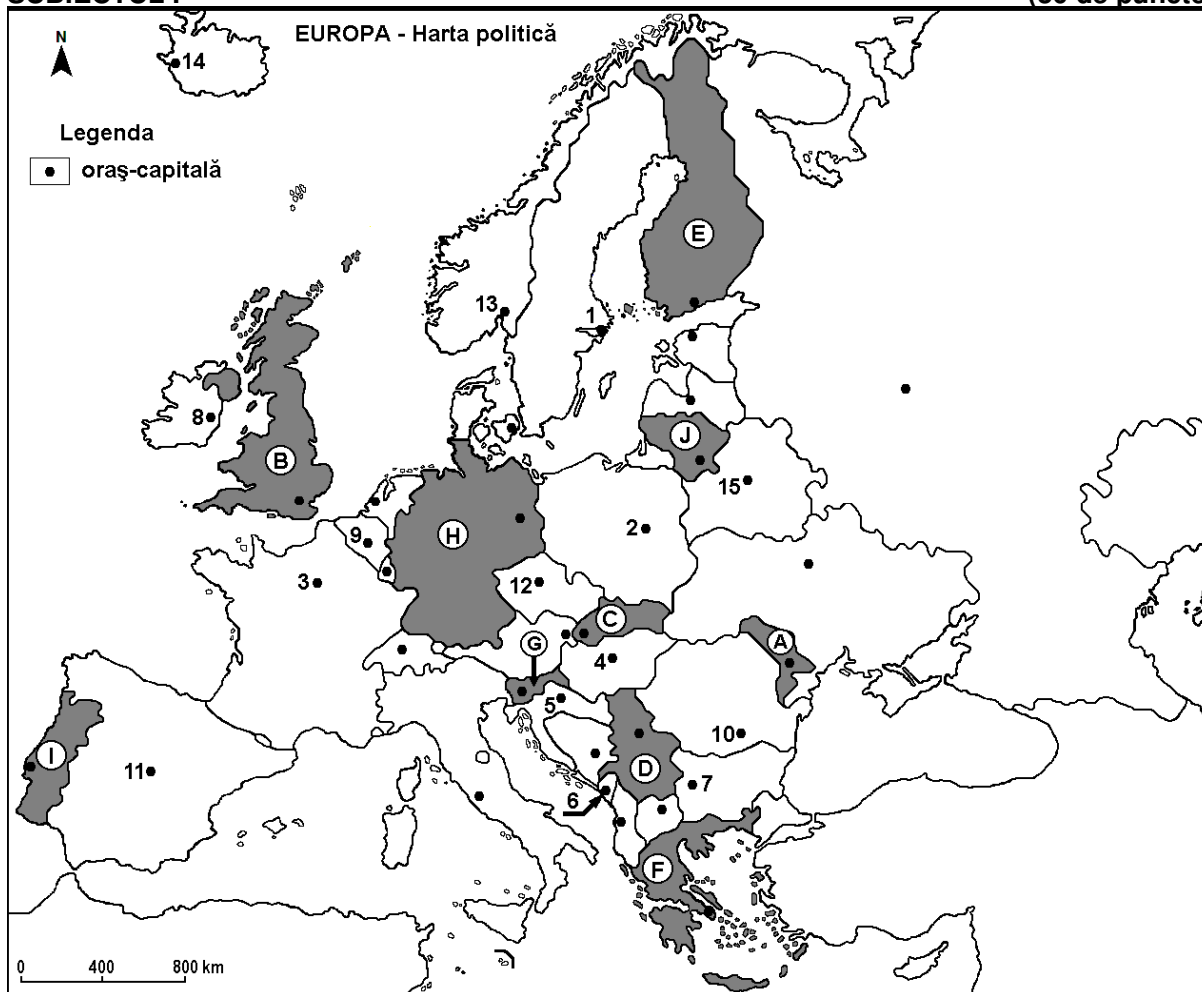


*Profilul umanist din filiera teoretică, profilul servicii din filiera tehnologică și toate profilurile și specializările din filiera vocațională, cu excepția profilului militar*

- Toate subiectele sunt obligatorii. Se acordă zece puncte din oficiu.
- Timpul efectiv de lucru este de trei ore.

**SUBIECTUL I**

**(30 de puncte)**



Harta de mai sus se referă la subiectul I A – E. Pe hartă sunt marcate state cu litere și orașe-capitală cu numere.

**A. Precizați:**

1. numele statului marcat, pe hartă, cu litera **H**;
2. numele orașului-capitală marcat, pe hartă, cu numărul **7**.

**4 puncte**

**B. Scrieți, pe foaia de examen, răspunsurile corecte care completează afirmațiile de mai jos:**

1. Orașul-capitală marcat, pe hartă, cu numărul **4** se numește ...
2. Orașele Bălți, Tighina și Chișinău se află în statul marcat, pe hartă, cu litera ...
3. Statul marcat, pe hartă, cu litera **E** se numește ...

**6 puncte**

**C. Scrieți, pe foaia de examen, litera corespunzătoare răspunsului corect pentru fiecare dintre afirmațiile de mai jos:**

1. Orașul-capitală marcat, pe hartă, cu numărul **12** se numește:

a. Bratislava

b. Praga

c. Varșovia

d. Viena

**2 puncte**

2. Orașul-capitală marcat, pe hartă, cu numărul **3** este străbătut de fluviul:  
a. Garonne      b. Rhin (Rin)      c. Sena      d. Tamisa      **2 puncte**
3. Orașul marcat, pe hartă, cu numărul **5** este capitala statului:  
a. Albania      b. Bosnia și Herțegovina      c. Croația      d. Muntenegru      **2 puncte**
4. Pe teritoriul statului marcat, pe hartă, cu litera **C** se desfășoară Munții:  
a. Alpi      b. Apenini      c. Carpați      d. Rodopi      **2 puncte**
5. Statul marcat, pe hartă, cu litera **J** se numește:  
a. Belarus      b. Estonia      c. Letonia      d. Lituania      **2 puncte**

D. Prezentați trei deosebiri între **clima** statului marcat, pe hartă, cu litera **B** și **clima** statului marcat, pe hartă, cu litera **F**.

**Nota 1:** Deosebirile se pot referi la oricare dintre următoarele elemente de **climă**: factori genetici, tip de climă, temperaturi medii anuale/vara/iarna, amplitudine termică, precipitații medii anuale/vara/iarna, vânturi cu frecvență ridicată, alte aspecte climatice.

**Nota 2:** Punctajul complet va fi acordat numai dacă deosebirile vor fi prezentate comparativ și nu separat.

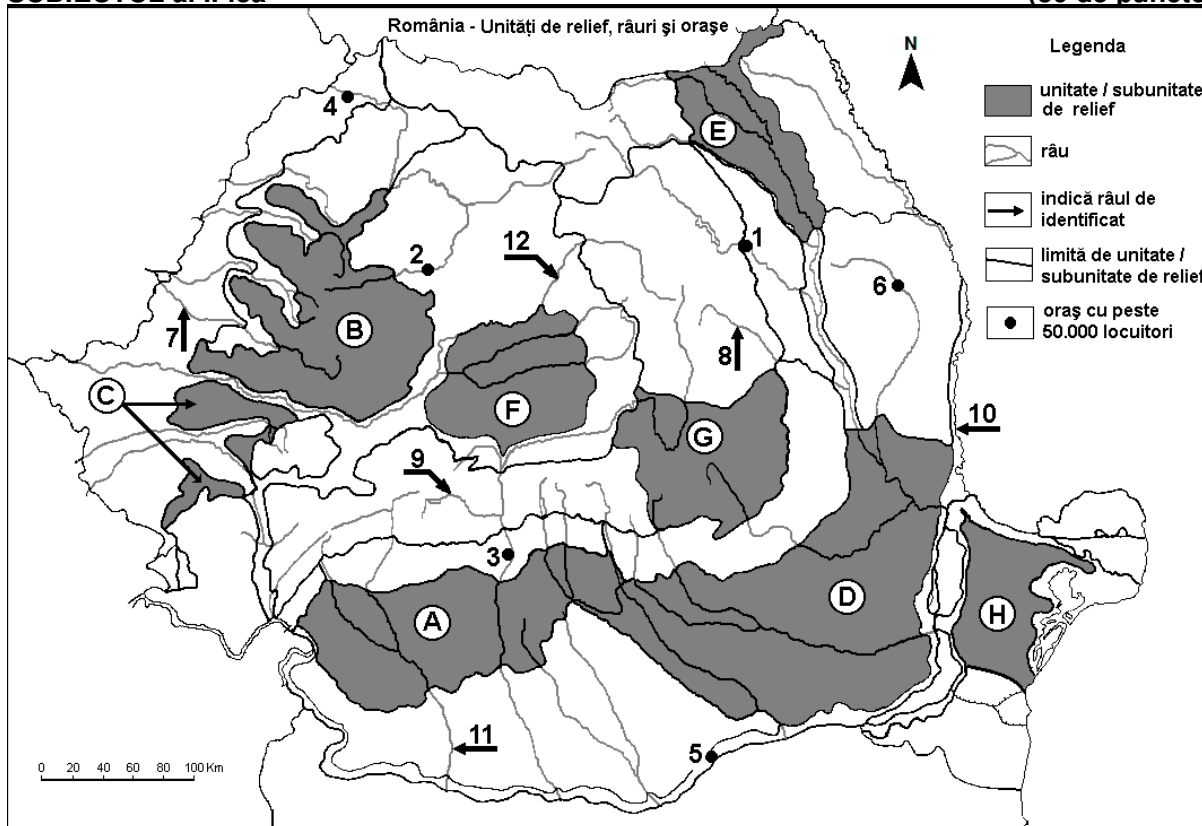
**Nota 3:** Nu este necesară precizarea numelor statelor, se poate face referire la statele respective cu literele cu care sunt marcate pe hartă. **6 puncte**

E. 1. Prezentați o cauză care determină valorile reduse ale densității populației în statul al cărui oraș-capitală este marcat, pe hartă, cu numărul **14**.

2. Prezentați o cauză care determină valorile ridicate ale densității populației în statul al cărui oraș-capitală este marcat, pe hartă, cu numărul **9**. **4 puncte**

### SUBIECTUL al II-lea

(30 de puncte)



Harta de mai sus se referă la subiectul II A – E. Pe hartă sunt marcate unități de relief cu litere, orașe cu numere de la 1 la 6 și râuri cu numere de la 7 la 12.

A. Precizați:

1. numărul cu care este marcat, pe hartă, orașul Cluj-Napoca;  
2. numele râului marcat, pe hartă, cu numărul 10.

**4 puncte**

B. Scrieți, pe foaia de examen, răspunsurile corecte care completează afirmațiile de mai jos:

1. Râul marcat, pe hartă, cu numărul 8 se numește ...

2. Orașul marcat, pe hartă, cu numărul **6** se numește...

3. În subunitatea de relief marcată, pe hartă, cu litera **B** pătrund influențe climatice ...

**6 puncte**

**C.** Scrieți, pe foaia de examen, litera corespunzătoare răspunsului corect pentru fiecare dintre afirmațiile de mai jos:

1. Râul Bistrița străbate orașul marcat, pe hartă, cu numărul:

a. 1                      b. 3                      c. 4                      d. 5                      **2 puncte**

2. Orașul marcat, pe hartă, cu numărul **5** se numește:

a. Alexandria              b. Călărași              c. Giurgiu              d. Slobozia              **2 puncte**

3. Râul marcat, pe hartă, cu numărul **12** străbate orașul:

a. Arad                      b. Baia Mare              c. Sibiu                      d. Timișoara              **2 puncte**

4. Petrol, gaze naturale și cărbuni se exploatează din unitatea de relief marcată, pe hartă, cu litera:

a. A                      b. B                      c. E                      d. H                      **2 puncte**

5. Orașul marcat, pe hartă, cu numărul **3** este străbătut de râul:

a. Argeș                      b. Dâmbovița              c. Jiu                      d. Olt                      **2 puncte**

**D.** Prezențați trei deosebiri între **relieful** unității marcate, pe hartă, cu litera **F** și **relieful** unității marcate, pe hartă, cu litera **G**.

**Nota 1:** Deosebirile se pot referi la oricare dintre următoarele aspecte ale **reliefului**: mod de formare, categorii/tipuri de roci pe care s-a format relieful, altitudini, gradul de fragmentare, trepte de relief, tipuri genetice de relief, orientarea culmilor și a văilor principale, dispunerea depresiunilor, alte aspecte specifice ale reliefului.

**Nota 2:** Punctajul complet va fi acordat numai dacă cele trei deosebiri vor fi prezentate comparativ și nu separat.

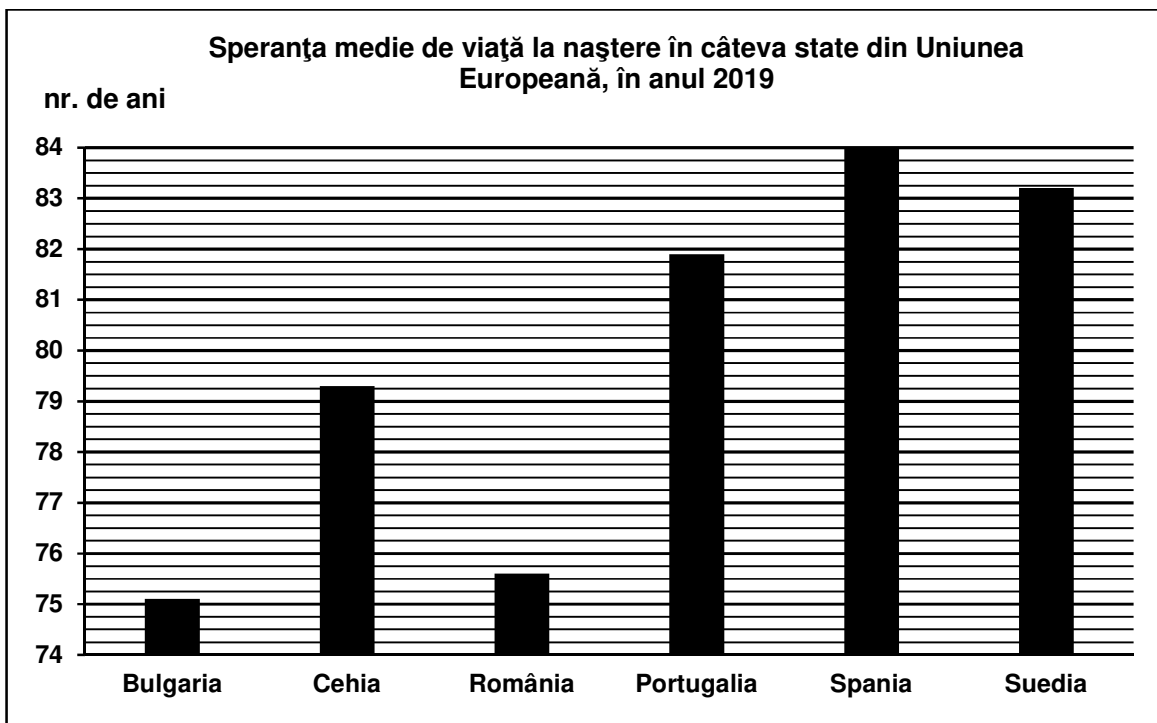
**Nota 3:** **Nu** este necesară precizarea numelor unităților de relief, se poate face referire la unitățile de relief respective cu literele cu care sunt marcate pe hartă. **6 puncte**

**E.** Prezențați două cauze care explică faptul că subunitatea de relief marcată, pe hartă, cu litera **D** este o importantă regiune agricolă. **4 puncte**

### **SUBIECTUL al III-lea**

**(30 de puncte)**

Reprezentarea grafică de mai jos se referă la subiectul **III A-B** și prezintă speranța medie de viață la naștere (durata medie de viață) în câteva state din Uniunea Europeană, în anul 2019.



Sursa: Eurostat

**A. Precizați:**

1. numele statului cu cea mai ridicată speranță medie de viață la naștere, precum și valoarea acesteia;
  2. numele statului cu cea mai scăzută speranță medie de viață la naștere, precum și valoarea acesteia.
- 4 puncte**

**B. 1.** Prezentați un factor sau o cauză care determină înregistrarea unei speranțe medii de viață la naștere (o durată medie de viață) mai ridicate în Suedia față de cea din Bulgaria.

**2.** Precizați valoarea speranței medii de viață la naștere (durata medie de viață) din România.

**3.** Precizați valoarea speranței medii de viață la naștere (durata medie de viață) din Cehia.

**6 puncte**

**C. Pentru Italia, precizați:**

1. numele unui stat vecin, membru al Uniunii Europene;
2. numele a două unități de relief;
3. numele a două cursuri de apă;
4. numele a trei orașe;
5. două culturi agricole specifice.

**10 puncte**

**D.** Tabelul de mai jos prezintă numărul de pasageri îmbarcați/debarcați pe aeroporturile din România, în perioada 2000 – 2020.

	<b>2000</b>	<b>2010</b>	<b>2019</b>	<b>2020</b>
Îmbarcați	1.153.921	5.115.068	11.650.033	3.649.461
Debarcați	1.204.182	5.013.129	11.543.280	3.536.995

*Sursa: Institutul Național de Statistică*

1. Precizați anul în care s-a înregistrat un număr de pasageri debarcați mai mare decât cel al pasagerilor îmbarcați.
2. Precizați numărul total de pasageri din România, în anul 2010.
3. Prezentați o cauză care a determinat scăderea numărului de pasageri în transportul aeroportuar din România în anul 2020.

**6 puncte**

**E.** Precizați numele a patru state care au fost admise în Uniunea Europeană în anul 2004.

**4 puncte**