

**Examenul de bacalaureat național 2018**  
**Proba E. d)**  
**Geografie**

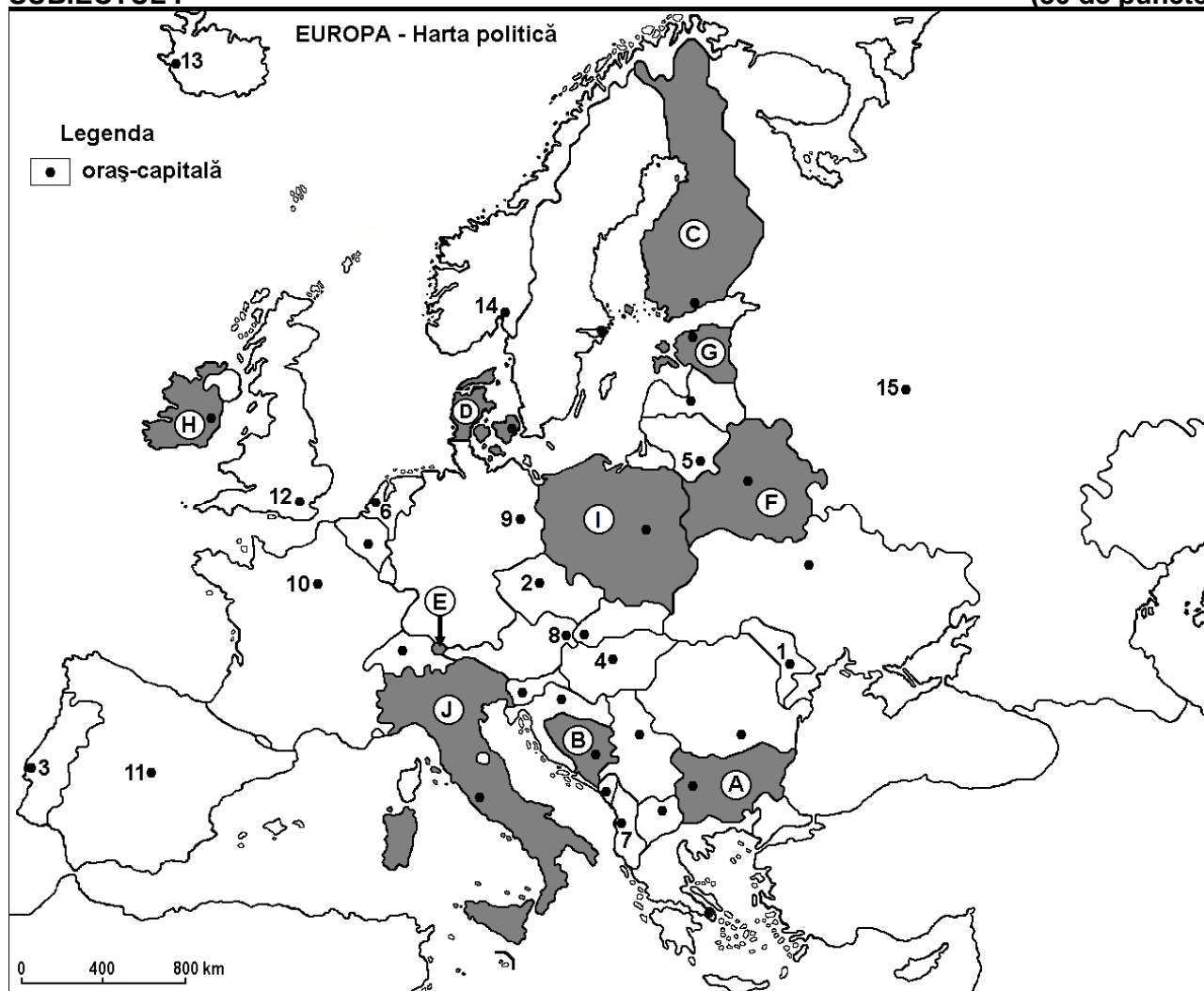
Simulare

*Profilul umanist din filiera teoretică, profilul servicii din filiera tehnologică și toate profilurile și specializările din filiera vocațională, cu excepția profilului militar*

- Toate subiectele sunt obligatorii. Se acordă 10 puncte din oficiu.
- Timpul efectiv de lucru este de 3 ore.

**SUBIECTUL I**

**(30 de puncte)**



Harta de mai sus se referă la subiectul I A – D. Pe hartă sunt marcate state cu litere și orașe - capitală cu numere.

**A. Precizați:**

1. numele statului marcat, pe hartă, cu litera **C**;
2. numele orașului-capitală marcat, pe hartă, cu numărul **12**. **4 puncte**

**B. Scrieți, pe foaia de examen, răspunsurile corecte care completează afirmațiile de mai jos:**

1. Orașul-capitală Berlin este marcat, pe hartă, cu numărul ...
2. Statul marcat, pe hartă, cu litera **A** se numește ...
3. Fluviul Sena străbate orașul-capitală marcat, pe hartă, cu numărul ... **6 puncte**

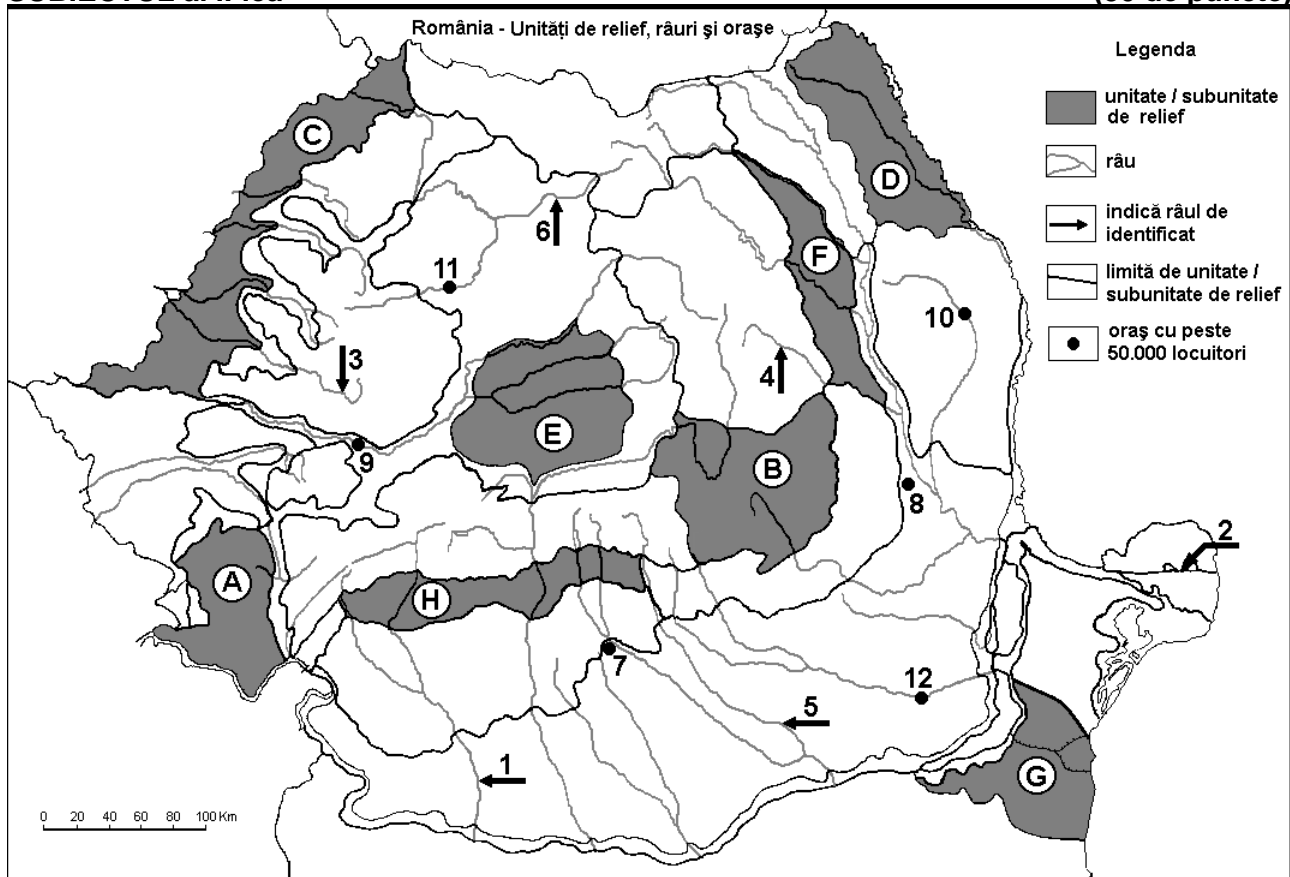
**C. Scrieți, pe foaia de examen, litera corespunzătoare răspunsului corect pentru fiecare dintre afirmațiile de mai jos:**

1. Climatul mediteraneean este specific orașului-capitală marcat, pe hartă, cu numărul:  
**a. 4                      b. 7                      c. 13                      d. 14                      2 puncte**

2. Statul marcat, pe hartă, cu litera **E** se numește:  
a. Andorra                      b. Liechtenstein                      c. Luxemburg                      d. San Marino                      **2 puncte**
3. Are ieșire la Marea Nordului statul marcat, pe hartă, cu litera:  
a. A                                  b. B                                  c. C                                  d. D                                  **2 puncte**
4. Orașul-capitală marcat, pe hartă, cu numărul **8** se numește:  
a. Bratislava                      b. Budapesta                      c. Praga                              d. Viena                              **2 puncte**
5. Orașul marcat, pe hartă, cu numărul **6** este capitala statului:  
a. Belgia                              b. Elveția                              c. Olanda                              d. Slovenia                              **2 puncte**
- D. Precizați trei deosebiri între **clima** statului marcat, pe hartă, cu litera **H** și **clima** statului marcat, pe hartă, cu litera **J**.  
**Nota 1:** Deosebirile se pot referi la oricare dintre următoarele elemente de **climă**: factori genetici, tip de climă, temperaturi medii anuale/vara/iarna, amplitudine termică, precipitații medii anuale/vara/iarna, vânturi cu frecvență ridicată.  
**Nota 2:** Punctajul complet va fi acordat numai dacă deosebirile vor fi prezentate comparativ și nu separat. **6 puncte**
- E. 1. Prezentați o cauză a potențialului hidroenergetic ridicat al râurilor din Munții Alpi.  
2. Precizați numele unui vulcan activ din sudul Europei. **4 puncte**

**SUBIECTUL al II-lea**

**(30 de puncte)**



Harta de mai sus se referă la subiectul II A – D. Pe hartă sunt marcate unități de relief cu litere, râuri cu numere de la 1 la 6 și orașe cu numere de la 7 la 12.

- A. Precizați:  
1. numele orașului marcat, pe hartă, cu numărul 12;  
2. numele râului marcat, pe hartă, cu numărul 1. **4 puncte**
- B. Scrieți, pe foaia de examen, răspunsurile corecte care completează afirmațiile de mai jos:  
1. Brațul Dunării marcat, pe hartă, cu numărul 2 se numește...

2. Cel mai mare oraș, ca număr de locuitori, pe care îl străbate râul marcat, pe hartă, cu numărul 5 se numește ...

3. Orașul Botoșani este situat în unitatea de relief marcată, pe hartă, cu litera ... **6 puncte**

C. Scrieți, pe foaia de examen, litera corespunzătoare răspunsului corect pentru fiecare dintre afirmațiile de mai jos:

1. Gaz metan se exploatează din subsolul unității de relief marcate, pe hartă, cu litera:

a. A                                      b. D                                      c. E                                      d. G                                      **2 puncte**

2. Argilele favorizează producerea alunecărilor de teren pe suprafețe extinse în unitățile de relief marcate, pe hartă, cu literele:

a. A și B                                      b. C și D                                      c. C și G                                      d. F și H                                      **2 puncte**

3. Râul marcat, pe hartă, cu numărul 3 se numește:

a. Crișul Alb                                      b. Crișul Repede                                      c. Târnava Mare                                      d. Timiș                                      **2 puncte**

4. Orașul marcat, pe hartă, cu numărul 7 se numește:

a. Buzău                                      b. Pitești                                      c. Ploiești                                      d. Târgoviște                                      **2 puncte**

5. Etajul pădurilor de conifere se găsește în unitatea de relief marcată, pe hartă, cu litera:

a. B                                      b. C                                      c. D                                      d. G                                      **2 puncte**

D. Precizați trei deosebiri între **relieful** unității marcate, pe hartă, cu litera **B** și **relieful** unității marcate, pe hartă, cu litera **C**.

**Nota 1:** Deosebirile se pot referi la oricare dintre următoarele aspecte ale **reliefului**: mod de formare, tipuri de roci pe care s-a format relieful, altitudini, gradul de fragmentare, tipuri genetice de relief, orientarea culmilor și a văilor principale, dispunerea depresiunilor, alte aspecte specifice ale reliefului.

**Nota 2:** Punctajul complet va fi acordat numai dacă cele trei deosebiri vor fi prezentate comparativ și nu separat. **6 puncte**

E. 1. Precizați două avantaje economice care decurg din faptul că România este o țară pontică.

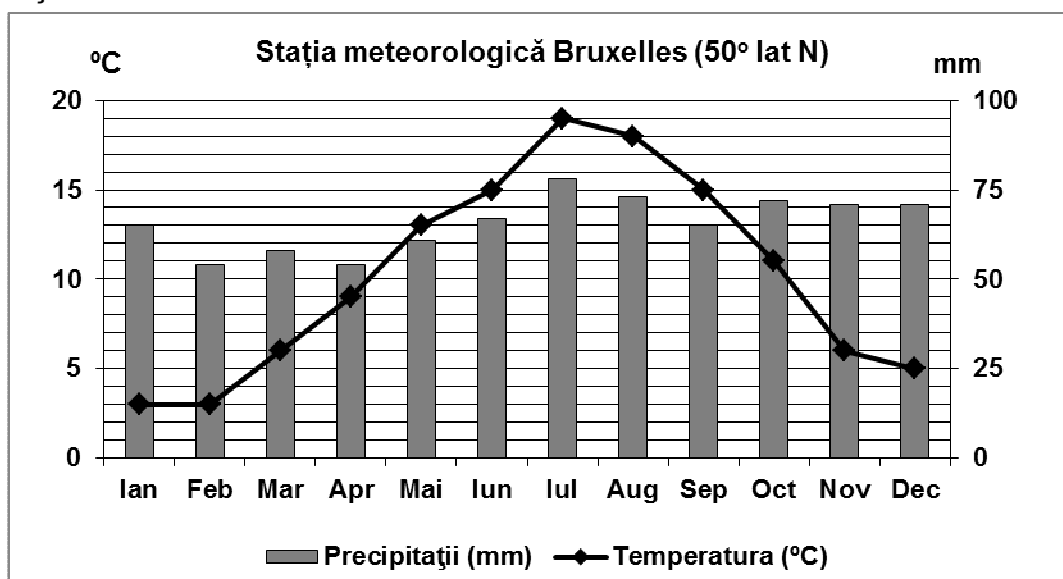
2. Prezentați o cauză a valorilor foarte diferite ale densității populației în Câmpia Română.

**4 puncte**

### SUBIECTUL al III-lea

**(30 de puncte)**

Reprezentarea grafică de mai jos se referă la subiectul III A-B și prezintă evoluția temperaturilor și a precipitațiilor medii lunare la Bruxelles.



(sursa: [www.eurometeo.com/euroweather](http://www.eurometeo.com/euroweather))

A. Precizați:

1. valoarea maximă a temperaturii medii lunare și luna în care se înregistrează;

2. valoarea minimă a precipitațiilor medii lunare și o lună în care se înregistrează.

**4 puncte**

- B. 1.** Precizați tipul de climă în care se încadrează diagrama de mai sus.  
**2.** Calculați amplitudinea termică medie anuală.  
**3.** Explicați faptul că, în lunile de iarnă, temperaturile medii lunare **nu** sunt negative.

**6 puncte**

**C.** Pentru **Republica Moldova**, precizați:

1. numele a două state vecine;
2. numele a două cursuri de apă;
3. numele a trei orașe;
4. tipul de climă;
5. două tipuri de culturi agricole predominante.

**10 puncte**

**D.** Tabelul de mai jos prezintă suprafața forestieră și ponderea terenurilor forestiere în două state ale Uniunii Europene, în anii 1990 și 2010.

| Statul   | Ponderea suprafeței forestiere (%) |       | Suprafața forestieră (în km <sup>2</sup> ) |         |
|----------|------------------------------------|-------|--|---------|
|          | 1990                               | 2010  | 1990                                       | 2010    |
| Finlanda | 72,0%                              | 72,9% | 221 940                                    | 222 180 |
| Suedia   | 66,5%                              | 68,7% | 273 670                                    | 280 730 |

Sursa: <http://data.un.org> și <http://www.fao.org>

1. Calculați cu cât a crescut ponderea suprafeței forestiere în Suedia, în perioada 1990-2010;
2. Calculați cu cât era mai mare suprafața forestieră în Suedia față de Finlanda (în km<sup>2</sup>), în anul 2010;
3. Explicați faptul că suprafețele forestiere din Suedia și Finlanda sunt foarte mari (peste 50% din suprafața țării).

**6 puncte**

**E.** Prezentați două consecințe ale fenomenului de îmbătrânire demografică a populației Europei.

**4 puncte**